

EB1 nº 7 da Póvoa de Varzim
ficha de avaliação mensal
de matemática - 1º ano

Data: _____


Avaliação : _____

Nome: _____

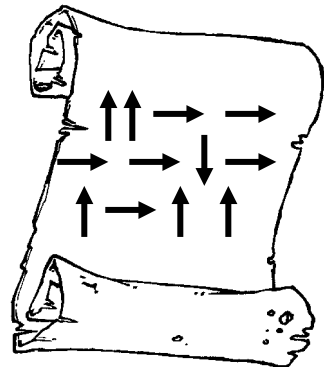
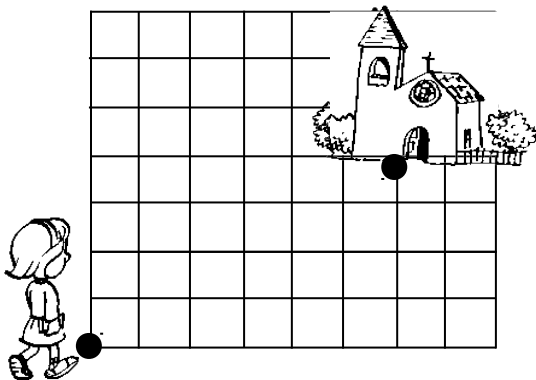
Ajudar o cão a encontrar a casota.




Ajudar o jumento a encontrar o fardo de palha.



Desenha o caminho da menina para a igreja de acordo com o mapa.




Completa como no exemplo.



Coloca os números por ordem crescente

4	3	7	6	9
5	1	2	8	0



< < < < < < < < <

Ajuda o Bernardo a ligar as contas aos resultados.



$4 + 5 \bullet$

$1 + 1 \bullet$

$2 + 3 \bullet$

$3 + 4 \bullet$

$2 + 2 \bullet$

2
7
5
4
9

$\bullet 8 - 4$

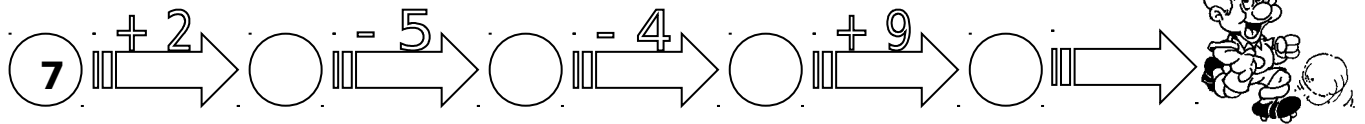
$\bullet 8 - 1$

$\bullet 9 - 0$

$\bullet 7 - 5$

$\bullet 6 - 1$

Completa como no exemplo



Decompõe os seguintes números:

