

# EXTERNATO PICA-PAU

## FICHA DE AVALIAÇÃO FINAL DE MATEMÁTICA


1º ANO

DATA: \_\_\_\_\_ AVALIAÇÃO: \_\_\_\_\_

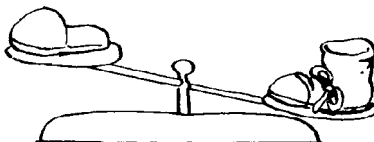
NOME: \_\_\_\_\_




**Completa com: pesa mais, pesa tanto ou pesa menos.**



O melão \_\_\_\_\_  
que a banana.



O chinelo \_\_\_\_\_  
que a bota.




O livro \_\_\_\_\_  
como os 3 cadernos.

**Desenha o caminho do cão  
para a casota.**



**Desenha o caminho do senhor  
Ambrósio até ao moinho.**



**Escreve os números de 2 em 2 até 40.**

2									
	40								

**Escreve os números de 3 em 3 até 45.**

3									
	45								

**Lê e observa com atenção e responde.**

Quantas flores tem a florista para vender?




A florista tem \_\_\_\_\_ para vender.

A Rita tinha 28 berlindes e deu 12 à sua colega. Quantos tem agora?



Agora tem \_\_\_\_\_ berlindes.




Quantas flores há nas duas jarras?

R.: \_\_\_\_\_

O rebanho do José tem 13 cabras e 16 ovelhas. Quantos animais tem?



Tem \_\_\_\_\_ animais.



Estavam pousados \_\_\_\_\_ passáros.

Fugiram \_\_\_\_\_. Então ficaram \_\_\_\_\_.

$$\square - \square = \square$$

**Completa com >, < ou =.**

$13 + 20$


$15 + 18$

$15 + 25$

$16$

$20 - 15$

$30 - 20$

$23 - 12$


$13 - 8$

$11$

$11 - 0$