

ESTUDO DO MEIO

INFORMAÇÃO:

NOME: _____ DATA: ____/____/____

ESCOLA: _____ RUBRICA DO DOCENTE: _____

1 – Numa escola da Covilhã, os alunos registaram o estado do tempo numa quarta-feira.




quarta-feira


X

1.1 – Achas que essa quarta-feira correspondia a um dia de verão ou de inverno? Justifica as razões da tua escolha.

2 – As imagens que se seguem representam as quatro estações do ano. Escreve o nome de cada estação do ano.



3 – Observa as imagens.



1



2



3

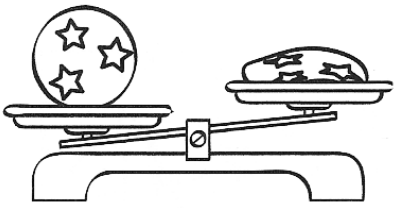
3.1 – O que é que está a acontecer em cada imagem?

1

2

3


4 – Observa a seguinte imagem que representa duas bolas iguais: uma cheia e outra vazia.



4.1 – Qual das bolas pesa mais, a cheia ou a vazia?

4.2 – Indica a razão pela qual uma das bolas pesa mais do que a outra.

5 – Completa usando o código abaixo.



D Animal doméstico

S Animal selvagem

6 – Imagina que trabalhas numa quinta e que tinhas de preencher uma ficha para cada animal da quinta. Completa as informações abaixo.



Nome: _____


Corpo coberto de: _____

Como se desloca: _____

Habitat (onde habita): _____

Como se reproduz: _____

Alimentação: _____



Nome: _____

Corpo coberto de: _____


Como se desloca: _____

Habitat (onde habita): _____

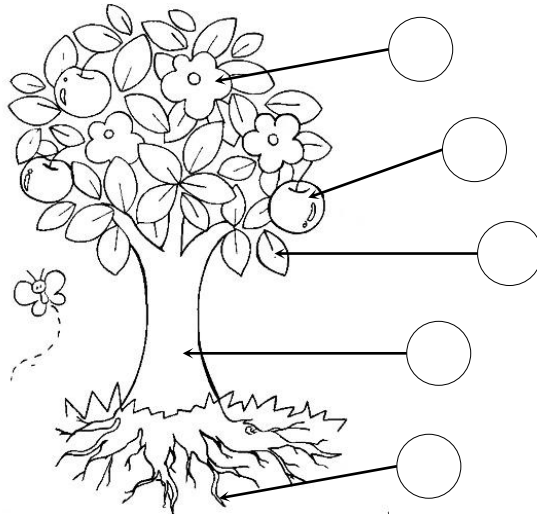
Como se reproduz: _____

Alimentação: _____

7 – Completa a tabela, assinalando com X as características de cada planta.

	Tipo de planta		Tipo de ambiente onde vive		
	Espontânea	Cultivada	Terra	Água	Ar
hera 					
nenúfar 					
morangueiro 					

8 – Observa a árvore abaixo e numera as partes que a constituem:



- 1 – RAIZ
- 2 – CAULE
- 3 – FOLHA
- 4 – FLOR
- 5 – FRUTO

9 – Completa o quadro com nomes de plantas.

Partes comestíveis	Planta
raiz	
caule	
folha	

10 – As plantas necessitam de cuidados. Assinala com X as opções corretas.

- As plantas tornam o ar mais puro.
- Para crescerem, as plantas necessitam de luz e água.
- As plantas necessitam de ar para sobreviver.
- As plantas fabricam o seu próprio alimento.

11 – Escreve CERTO ou ERRADO em cada uma das afirmações.

Quando viajo de autocarro não devo...

pagar o meu bilhete.

passar à frente das pessoas que estão na fila.

dar o meu lugar a uma senhora grávida.

riscar nem rasgar os assentos.

12 – O carro do Sr. Artur avariou. Quem o vai arranjar?

O médico.

O professor.

O mecânico.

O arquiteto.



13 – Lê as frases e escreve nos quadrados o nome da profissão correspondente.

• Traz alimentos do mar.

			C				
--	--	--	---	--	--	--	--

• Escreve livros.

		C					
--	--	---	--	--	--	--	--

• Faz peças de vestuário.

C											
---	--	--	--	--	--	--	--	--	--	--	--

• Garante a segurança pública.

				C		
--	--	--	--	---	--	--

14 – Preenche os dados referentes a cada profissão.



Profissão: _____

Função: _____

Local de Trabalho: _____

Profissão: _____

Função: _____

Local de Trabalho: _____

