

ESTUDO DO MEIO

INFORMAÇÃO:

NOME: _____ DATA: ____/____/____

ESCOLA: _____ RUBRICA DO DOCENTE: _____

1 – Completa o texto seguinte:

O meu nome é _____.
 Nasci na localidade (cidade, vila, aldeia) de _____, no dia ____ do
 mês de _____ do ano de _____.

2 – Assinala V (verdadeira) ou F (falsa) em cada uma das afirmações.

- | | |
|--|---|
| <input type="checkbox"/> Um ano tem doze meses. | <input type="checkbox"/> Há meses que têm 35 dias. |
| <input type="checkbox"/> O primeiro mês do ano é janeiro. | <input type="checkbox"/> março tem 31 dias. |
| <input type="checkbox"/> Num ano bissexto, o ano tem 365 dias. | <input type="checkbox"/> O último mês do ano tem 31 dias. |

3 – Liga cada imagem ao sentido que lhe está associado.



•



•



•



•



•

•

visão

•

olfato

•

tato

•

audição

•

gosto

4 – Agrupa os alimentos de acordo com as etiquetas.

gelado mel presunto bacalhau chocolate marmelada toucinho sal

salgado

doce

5 – Observa as imagens. Depois da corrida os rapazes ficaram com sede.



Miguel

5.1 – Qual deles procedeu corretamente ?

Miguel Pedro

5.2 – A água do charco é...

potável poluída



Pedro

6 – Observa a gravura. Assinala com um X a resposta certa.

A Maria foi tomar uma vacina porque...

- as vacinas curam as doenças.
 as vacinas evitam as doenças.




7 – Indica dois cuidados que ela deve ter com a exposição ao sol.



8 – Assinala com um X, as afirmações que achares corretas.

- Só devo brincar com quem me fizer todas as vontades.
 Devo deitar os papéis no chão.
 Devo respeitar as pessoas idosas.
 Tenho que ter cuidado quando brinco.
 Quando alguém está a falar, devo falar mais alto.
 Só devo falar quando todos estão calados e na minha vez.
 Quando alguém não concorda com o que digo, bato-lhe.
 Quando não estou de acordo, não brinco nem falo.
 Quando espero pelo autocarro, respeito as filas.
 No autocarro tento ser sempre o primeiro a sentar-me.
 Para entrar em qualquer sítio empurro quem está à minha frente.

9 – Relaciona cada profissão e assinala a sua função com a ajuda da legenda.



MÉDICO

JORNALISTA

JARDINEIRA

BOMBEIRA

CABELEIREIRO

COZINHEIRA

1 – Cura e trata dos doentes.

2 – Trata dos jardins.

3 – Faz a comida num restaurante.

4 – Corta o cabelo aos clientes.

5 – Apaga os incêndios.

6 – Entrevista pessoas e divulga notícias.

10 – Relaciona corretamente.

1	raiz
2	caule
3	folha
4	fruto
5	flor

	Suporta os ramos e conduz alimentos.
	Dá origem a saborosos frutos.
	Prende a planta e procura alimentos.
	Serve para a reprodução da planta.
	Permitem que a planta respire.

11 – Completa com nomes de plantas:

espontâneas

cultivadas


12 – Completa com nomes de animais que tenham o corpo coberto:

de pelos

de penas

de escamas

13 – Liga cada ser vivo à sua alimentação. Pinta os animais domésticos.



• carnívoro •

• herbívoro •

• omnívoro •



14 – Assinala, com um X, o tempo que faz hoje.

quente

ventoso


céu nublado

frio

chuvoso

com sol

15 – Observa os caminhos que o Carlos percorre todos os dias.
Assinala com um X, as afirmações verdadeiras.



• Quando vai de casa para a escola, o ponto de partida é...

a escola

a casa

o talho

• e o ponto de chegada é...

a escola

a casa

o talho

• Ao fim da tarde, o Carlos vai ao talho com a sua mãe. O ponto de chegada é...

a escola

a casa

o talho

16 – Assinala os meios de transporte que existem na tua localidade.

comboios

submarinos

bicicletas

aviões

eléctricos

carruagens

barcos

motas

helicópteros

automóveis

autocarros

camionetas

17 – Escreve nomes de:

transportes próprios

transportes públicos

meios de comunicação pessoais

meios de comunicação sociais

18 – A Luísa deitou açúcar num copo de água e mexeu com uma colher. Depois provou a água.

18.1 – A água estava...

salgada.

doce.

branca.

18.2 – Justifica o acontecido.

19 – O José colocou peixinhos nos dois aquários.



19.1 – Indica o motivo provável para se conseguir ver os peixinhos no aquário A e não se conseguir vê-los no aquário B.

20 – Qual dos materiais seguintes terá a Rita escolhido para modelar o boneco? Assinala-o com um X.

ferro

barro

borracha

cortiça

20.1 – Que propriedade tem esse material que permite ser modelado? _____

